

Travail à faire Lundi 4 mai.

Tous les documents sont imprimables ou peuvent être remplis informatiquement.

Si votre enfant n'est pas du tout à l'aise avec un ordinateur, vous pouvez imprimer les documents. Les exercices sont à faire sur le cahier du jour

## 1-Construction de phrase

Ecrire une phrase avec les contraintes suivantes :

Complément de lieu+ sujet ( déterminant+nom+adjectif)  
+verbe+complément de verbe (qui, quoi?)+ complément de verbe (à qui ?  
À Quoi?)

ex : Dans la classe, les élèves sérieux donnent la bonne réponse à la  
c de lieu c de verbe (quoi ?)  
maîtresse  
c de verbe (à qui?)

## 2-Plan de travail (20 minutes)

Continuer sa fiche de plan de travail. Si celle-ci est terminée, en choisir une autre.

## 3- Mathématiques

### Opérations

#### 1-Pose et calcule

$$23,46+9,8+4 \text{ et } 34,5-25$$

#### 2- Problème

Dans une classe de 28 élèves, âgés de 11 à 12 ans, le maître distribue à chaque enfant 5 livres pesant en moyenne 450 grammes chacun et 2 livres pesant 560g chacun.  
Combien de livres ont été distribués ?

Avant de résoudre le problème, souligne dans le texte les nombres dont tu as besoin.

Je cherche.....

Opération :.....

phrase réponse : .....

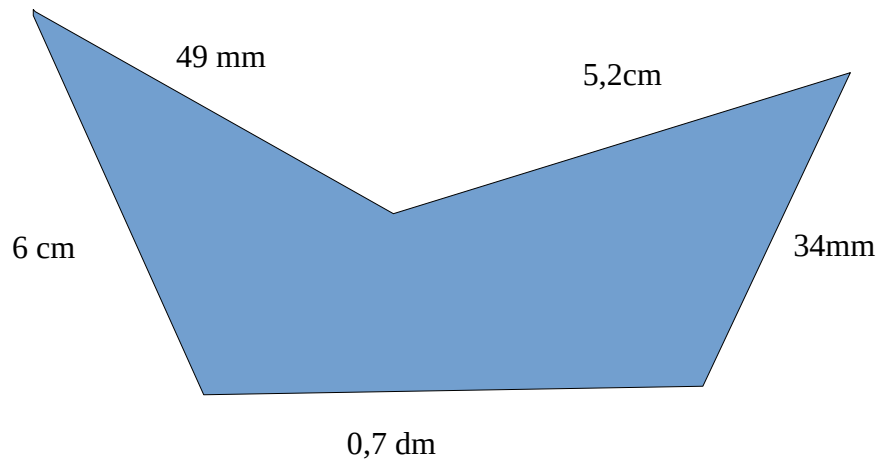
### 3- Géométrie

Trace un cercle de diamètre 7 cm.

Trace un triangle équilatéral de 4 cm de côté.

### 4- Le périmètre

Rappel : le périmètre est la somme des longueurs des côtés d'une figure. (les longueurs doivent avoir la même unité, sinon il faut convertir à l'aide du tableau des longueurs!)



.....  
 .....  
 .....

5- Calcul mental : la moitié des nombres impaires

Ex : la moitié de 13

$$\begin{array}{rcccc}
 13 & = & 12 & + & 1 \\
 \downarrow & & \downarrow & & \downarrow \\
 6+0,5=6,5 & & 6 & & 0,5
 \end{array}$$

Trouve la moitié de :

17 - 21 - 47 - 51 - 87

## Lecture

1- Dans le livre « la révolte des animaux moches », chaque animal porte un nom qui rime avec son espèce.

Ex : Marie Odile le crocodile  
Sven le hyène

Trouve 5 autres animaux dont le nom rime avec l'espèce.

2- lis ou relis l'histoire « Silence » tiré du livre « Histoires pressées » puis réponds aux questions.

## Histoire

### Pourquoi y a-t-il eu la seconde guerre mondiale ?

1-Visionne « 1 jour 1 question » une première fois en entier.

<https://www.youtube.com/watch?v=5BBG7LyoLo4&list=PLSHZJxd0siyx7q66CY3RJHXxf98uEaJo&index=13>

2-Réponds aux questions suivantes en regardant de nouveau la vidéo (arrête toi après chaque question pour écrire la réponse.

1-Quand s'est terminée la seconde guerre mondiale ?

.....

2-Combien y a-t-il eu de personnes tuées pendant la guerre ?

.....

3-Après la défaite de la première guerre mondiale, donne les deux choses que l'Allemagne a dû faire ?

.....  
.....

4- En quelle année Hitler est-il arrivé au pouvoir ?

.....

5-D'après Hitler, qui est responsable de la pauvreté et du chômage en Allemagne (il y a deux réponses) ?

.....  
.....

6- Quel pays l'Allemagne annexe-t-il (prend-il) ?

.....

7- Pourquoi les grands pays européens ne réagissent pas ?

.....

8-Quels sont les deux pays avec qui Hitler s'associe-t-il ?

.....

9-En quelle année Hitler envahit-il la Pologne ?

.....

10-Quels pays déclarent la guerre à l'Allemagne ?

.....

11-A quelle date déclarent-ils la guerre à l'Allemagne ?

.....

12-Pourquoi la guerre devient-elle mondiale ?

.....

# Correction

## 3- Mathématiques

### Opérations

#### 1-Pose et calcule

23,46+9,8+4 et 34,5-25

Vérifie à la calculatrice

#### 2- Problème

Dans une classe de 28 élèves, âgés de 11 à 12 ans, le maître distribue à chaque enfant 5 livres pesant en moyenne 450 grammes chacun et 2 livres pesant 560g chacun. Combien de livres ont été distribués ?

Avant de résoudre le problème, souligne dans le texte les nombres dont tu as besoin.

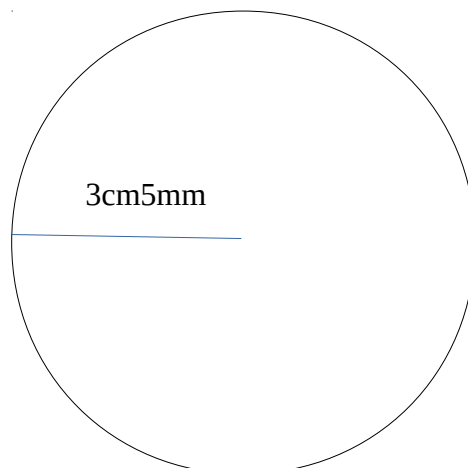
Je cherche le nombre de livres distribués

Opération :  $28 \times (5+2) = 28 \times 7 = 196$

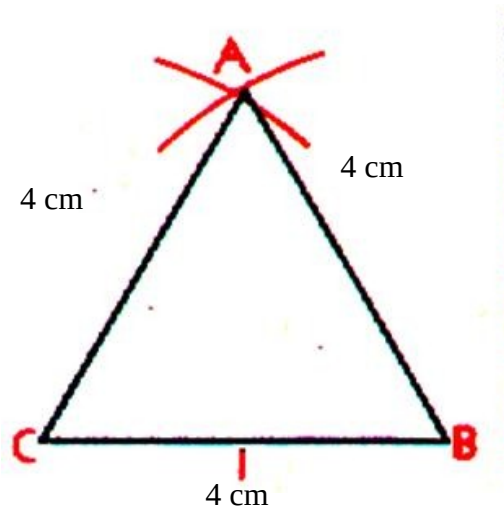
phrase réponse : Le nombre de livres distribuées est 196.

#### 4- Géométrie

Trace un cercle de diamètre 7 cm. Le rayon est donc la moitié de 7, c'est à dire 3cm5mm.

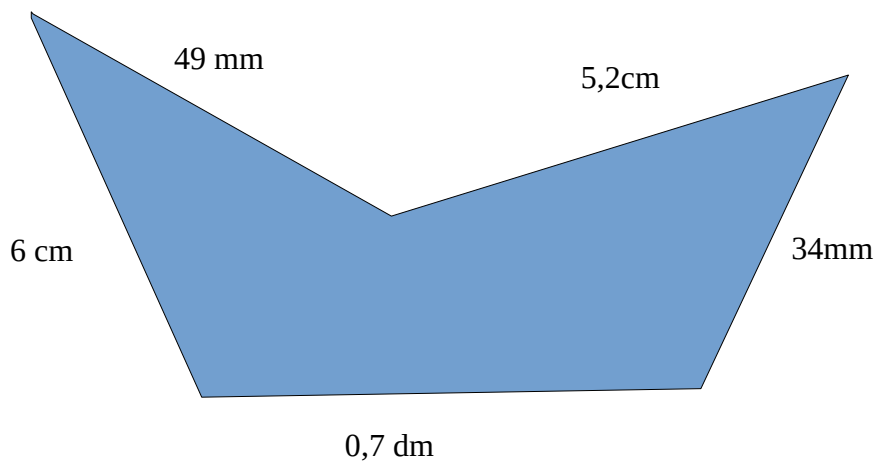


Trace un triangle équilatéral de 4 cm de côté.



#### 4- Le périmètre

Rappel : le périmètre est la somme des longueurs des côtés d'une figure. (les longueurs doivent avoir la même unité, sinon il faut convertir à l'aide du tableau des longueurs!)



Il faut mettre toutes les unités en millimètres

$$49 \text{ mm} + 52 \text{ mm} + 34 \text{ mm} + 70 \text{ mm} + 60 \text{ mm} = 265 \text{ mm}$$

Le périmètre mesure 265mm soit 26,5cm.

5- Calcul mental : la moitié des nombres impaires

$$\begin{array}{r} 17 = 16 + 1 \\ \quad \downarrow \quad \downarrow \\ 8+0,5=8,5 \quad 8 \quad 0,5 \end{array}$$

$$\begin{array}{r} 21 = 20 + 1 \\ \quad \downarrow \quad \downarrow \\ 10+0,5=10,5 \quad 10 \quad 0,5 \end{array}$$

$$\begin{array}{r} 47 = 46 + 1 \\ \quad \downarrow \quad \downarrow \\ 23+0,5=23,5 \quad 23 \quad 0,5 \end{array}$$

$$\begin{array}{r} 51 = 50 + 1 \\ \quad \downarrow \quad \downarrow \\ 25+0,5=25,5 \quad 25 \quad 0,5 \end{array}$$

$$\begin{array}{r} 87 = 86 + 1 \\ \quad \downarrow \quad \downarrow \\ 43+0,5=43,5 \quad 43 \quad 0,5 \end{array}$$



## Lecture

2- lis ou relis l'histoire « Silence » tiré du livre « Histoires pressées » puis réponds aux questions.

Souligne la ou les bonnes réponses :

1) La maîtresse a hurlée : 45 fois - 47 fois - 74 fois - quarante-sept fois

2) Elle a laissé tomber sa gomme, c'est : David - Marco - Marie - Moi

3) Elle a hurlé : « Taisez-vous et travaillez ! » : Moi - la maîtresse - Marie

4) Elle nage dans le bocal. : Marie - la maîtresse - la fusée

5) Ca fait des bulles, dans : la classe - la bouche - le bocal - l'eau

6) J'ai écrit une histoire : de Marco Polo - de pirates - de David

7) J'aurai le temps de faire : des maths - de l'histoire - de la musique

Réponds aux questions :

1) Quelle est la fâcheuse manie de la maîtresse. Que répète-t-elle continuellement ?

**SILENCE**

2) Quelle a été la réaction de la maîtresse quand l'enfant a hurlé ? Relève les phrases qui le montrent.

**Elle a ouvert très grand la bouche et elle a mis la main sur son coeur.**

3) Qu'est-ce qui est invraisemblable dans l'histoire ?

**La maîtresse ne peut pas sauté dans un bocal !**

Histoire

## Pourquoi y a-t-il eu la seconde guerre mondiale ?

1-Visionne « 1 jour 1 question » une première fois en entier.

<https://www.youtube.com/watch?v=5BBG7LyLo4&list=PLSHZJxd0siyx7q66CY3RJHXxf98uEaJo&index=13>

2-Réponds aux questions suivantes en regardant de nouveau la vidéo (arrête toi après chaque question pour écrire la réponse.

1-Quand s'est terminée la seconde guerre mondiale ?

Elle s'est terminée le 8 mai 1945, c'est l'armistice.

2-Combien y a-t-il eu de personnes tuées pendant la guerre ?

On estime à 50 millions de personnes tués lors de la seconde guerre mondiale.

3-Après la défaite de la première guerre mondiale, donne les deux choses que l'Allemagne a dû faire ?

Elle a dû rendre l'Alsace et la Lorraine à la France et payer des sommes énormes pour la reconstruction des pays.

4- En quelle année Hitler est-il arrivé au pouvoir ?

Hitler est arrivé au pouvoir en 1933.

5-D'après Hitler, qui est responsable de la pauvreté et du chômage en Allemagne (il y a deux réponses) ?

Ce sont les pays étrangers et les juifs qui sont responsables.

6- Quel pays l'Allemagne annexe-t-il (prend-il) ?

Il annexe l'Autriche

7- Pourquoi les grands pays européens ne réagissent pas ?

Ils ne veulent pas d'une autre guerre.

8-Quels sont les deux pays avec qui Hitler s'associe-t-il ?

Il s'associe avec l'Italie et le Japon.

9-En quelle année Hitler envahit-il la Pologne ?

Hitler envahit la Pologne en 1939.

10-Quels pays déclarent la guerre à l'Allemagne ?

La France et l'Angleterre déclarent la guerre à l'Allemagne.

11-A quelle date déclarent-ils la guerre à l'Allemagne ?

C'est le 3 septembre 1939.

12-Pourquoi la guerre devient-elle mondiale ?

La guerre devient mondiale à cause des alliances et ententes entre les pays.