









1 Écris dans le nuage le nombre d'étoiles cachées, complète l'opération :

<p>$3+2=5$</p>  <p>7</p> <p>$1 + __ = 7$</p>	<p></p> <p>6</p> <p>$5 + __ = 6$</p>	<p></p> <p>8</p> <p>$2 + __ = 8$</p>
<p></p> <p>7</p> <p>$2 + __ = 7$</p>	<p></p> <p>8</p> <p>$5 + __ = 8$</p>	<p></p> <p>9</p> <p>$5 + __ = 9$</p>

2 Complète pour obtenir 9 .

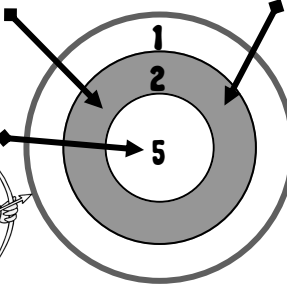
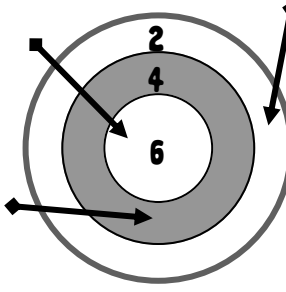

$3+2=5$

9	$0 + __$	$3 + __$	$4 + __$	$9 + __$
	$5 + __$	$7 + __$	$6 + __$	
	$8 + __$	$2 + __$	$1 + __$	

3 Calcule le nombre de points de chaque personnage et indique qui a gagné :

$3+2=5$

C'est qui a gagné.

<p>le coq</p>  <p>$5 + 2 + 2 = __$</p>	<p>l'âne</p>  <p>$6 + __ + __ = __$</p>	<p>le rat</p>  <p>$__ + __ + __ = __$</p>
--	---	--



1 Écris dans le nuage le nombre d'étoiles cachées, complète l'opération :

$3 + 2 = 5$

7

$3 + \underline{\quad} = 7$

8

$6 + \underline{\quad} = 8$

9

$3 + \underline{\quad} = 9$

6

$2 + \underline{\quad} = 6$

9

$6 + \underline{\quad} = 9$

7

$4 + \underline{\quad} = 7$

2 Complète pour obtenir 10 .

$3 + 2 = 5$

10

0 + 3 + 4 + 9 +

8 + 10 + 7 + 6 +

2 + 1 + 5 +

3 Calcule le nombre de points de chaque personnage et indique qui a gagné :

$3 + 2 = 5$

C'est qui a gagné.

le coq

$6 + 4 + 2 = \underline{\quad}$

l'âne

$3 + \underline{\quad} + \underline{\quad} = \underline{\quad}$

le rat

$\underline{\quad} + \underline{\quad} + \underline{\quad} = \underline{\quad}$

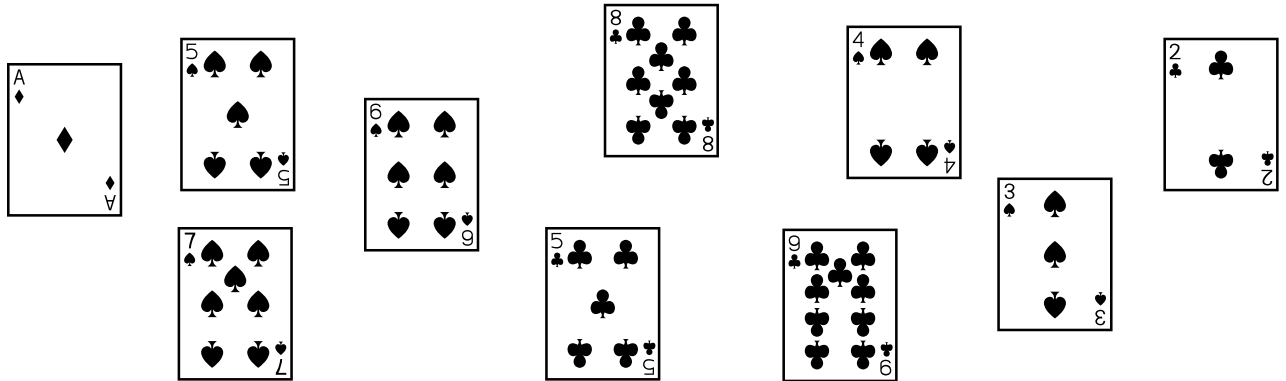


lundi mardi mercredi jeudi vendredi samedi dimanche



/ /

1 Colorie de la même couleur les cartes 2 par 2 pour avoir 10 points.




2 Regroupe pour faire 10 et calcule :




3 + 2 = 5

7 + 3 + 4 = 14




4 + 6 + 5

+ =




5 + 5 + 7

+ =



+ +


=



+ +

+ =

3 Colorie uniquement les pommes du 4, utilise ta bande numérique



4

7 + Apple = 11

2 + Apple = 10

3 + Apple = 7

6 + Apple = 10

1 + Apple = 9

5 + Apple = 9

4 + Apple = 7

5 + Apple = 9

10 - Apple = 6

8 - Apple = 6

9 - Apple = 5

7 - Apple = 7

6 - Apple = 2

7 - Apple = 6

4 - Apple = 0

8 - Apple = 4



Compléments à 10.
Calcul réfléchi. (faire 10)

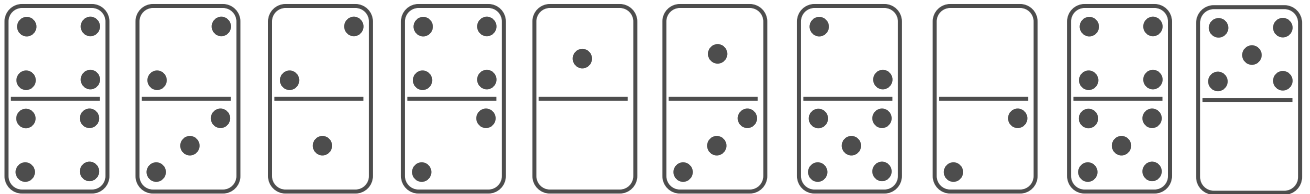
Calcul
Fiche n°21B

lundi mardi mercredi jeudi vendredi samedi dimanche



/ /

1 Colorie de la même couleur les dominos 2 par 2 pour avoir 10 points.



2 Regroupe pour faire 10 et calcule :



3 + 2 = 5

7 + 3 = 10

4 + 10 = 14

1 + 9 + 4

1 + 9 + 4

+ =

4 + 6 + 8

+ =

+ +

+ =

+ +

+ =

+ +

+ =


+ +

+ =

+ +

+ =

3 Colorie uniquement les pommes du 5, utilise ta bande numérique :



5

8 + Apple = 11

1 + Apple = 6

11 - Apple = 6

6 - Apple = 1

2 + Apple = 7

4 + Apple = 9

8 - Apple = 3

10 - Apple = 6

5 + Apple = 10

3 + Apple = 7

5 - Apple = 5

5 - Apple = 0

6 + Apple = 6

5 + Apple = 10

7 - Apple = 2

12 - Apple = 10