
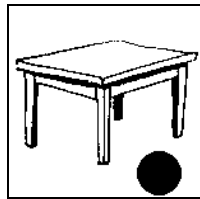


# REPÉRAGE – L'espace (08)

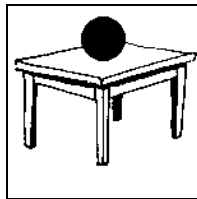
• Observe les dessins suivants puis réponds aux questions :



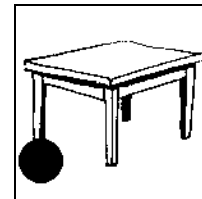
**A**




**B**



**C**



**D**



**E**

1./ Dans quel dessin le ballon se trouve **sur** la table ?






2./ Dans quel dessin le ballon se trouve **sous** la table ?






3./ Dans quel dessin le ballon se trouve **devant** la table ?






4./ Dans quel dessin le ballon se trouve **derrière** la table ?






5./ Dans quel dessin le ballon se trouve **à côté** de la table ?






• Observe les empilements suivants puis réponds aux questions :



**1**



**2**



**3**



**4**



**5**

1./ Dans quel empilement le cube **E** est à droite du cube **C** ?






2./ Dans quel empilement le cube **D** est le plus haut ?






3./ Dans quel empilement le cube **A** est dans la rangée du bas ?






4./ Dans quel empilement le cube **B** est entre les cubes **F** et **E** ?