



Le pluriel des verbes

Singulier



Pluriel



Ludo joue.

Ludo et Léo jouent.

Lily danse.

Les élèves dansent.

Il se repose.

Ils se reposent.

Elle range.

Elles rangent.

Son ami pleure.


Ses amis pleurent.

Le garçon chante.

Les garçons chantent.

Maman rentre.

Mes parents rentrent.



Colorie les verbes, les mots qui expriment ce qui se passe .



Elle lève le doigt.




Il mange du pain.



Il lance la boule.



Elle donne des fleurs.



Elle donne le biberon.



Il repasse le linge.

Ecris un bulletin météo pour annoncer le temps de demain
Utilise les mots suivants

la température
des nuages
du vent
de la pluie
de la tempête
de l'orage

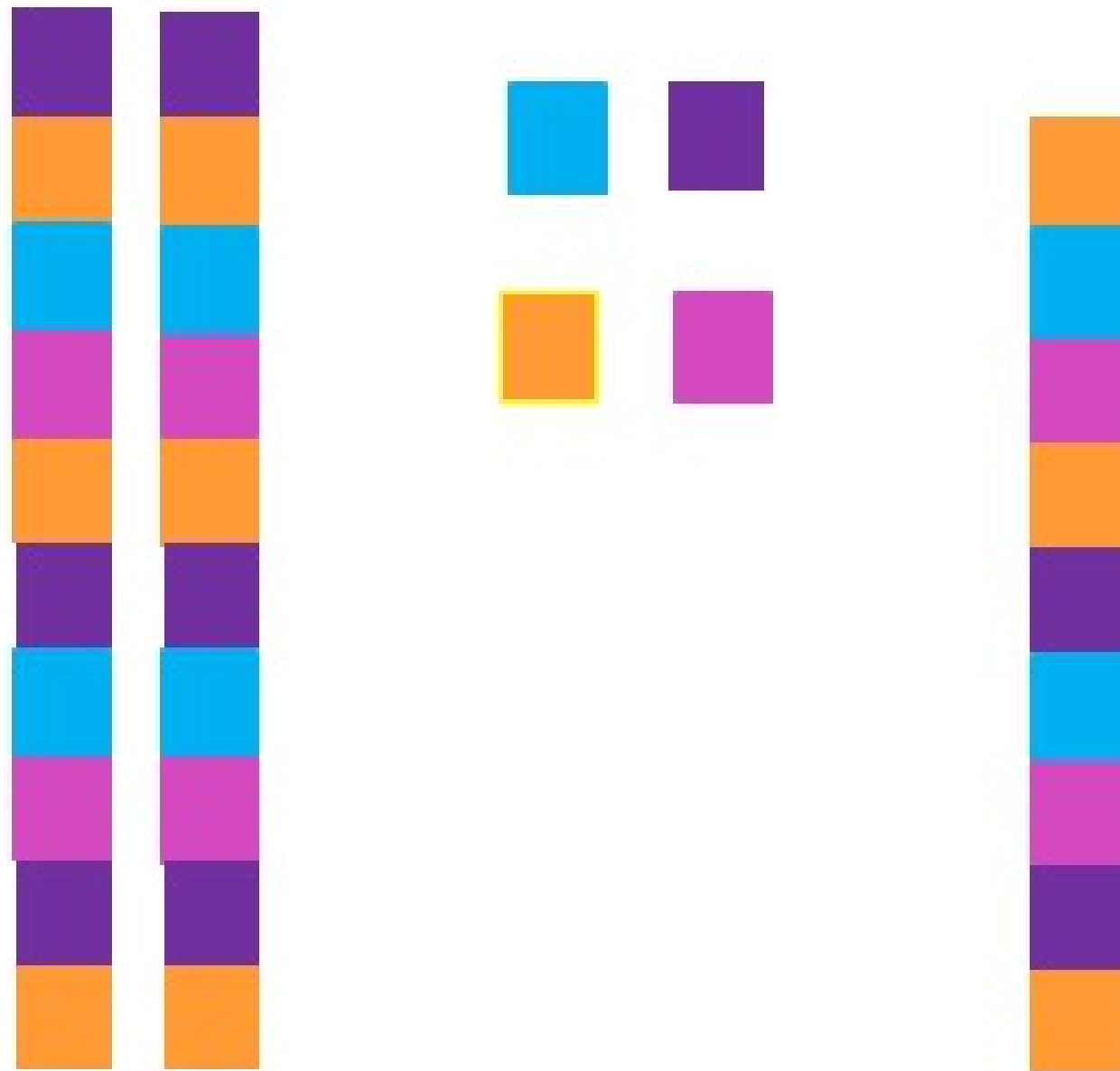
il y aura
il fera

beau
mauvais
froid
chaud
gris

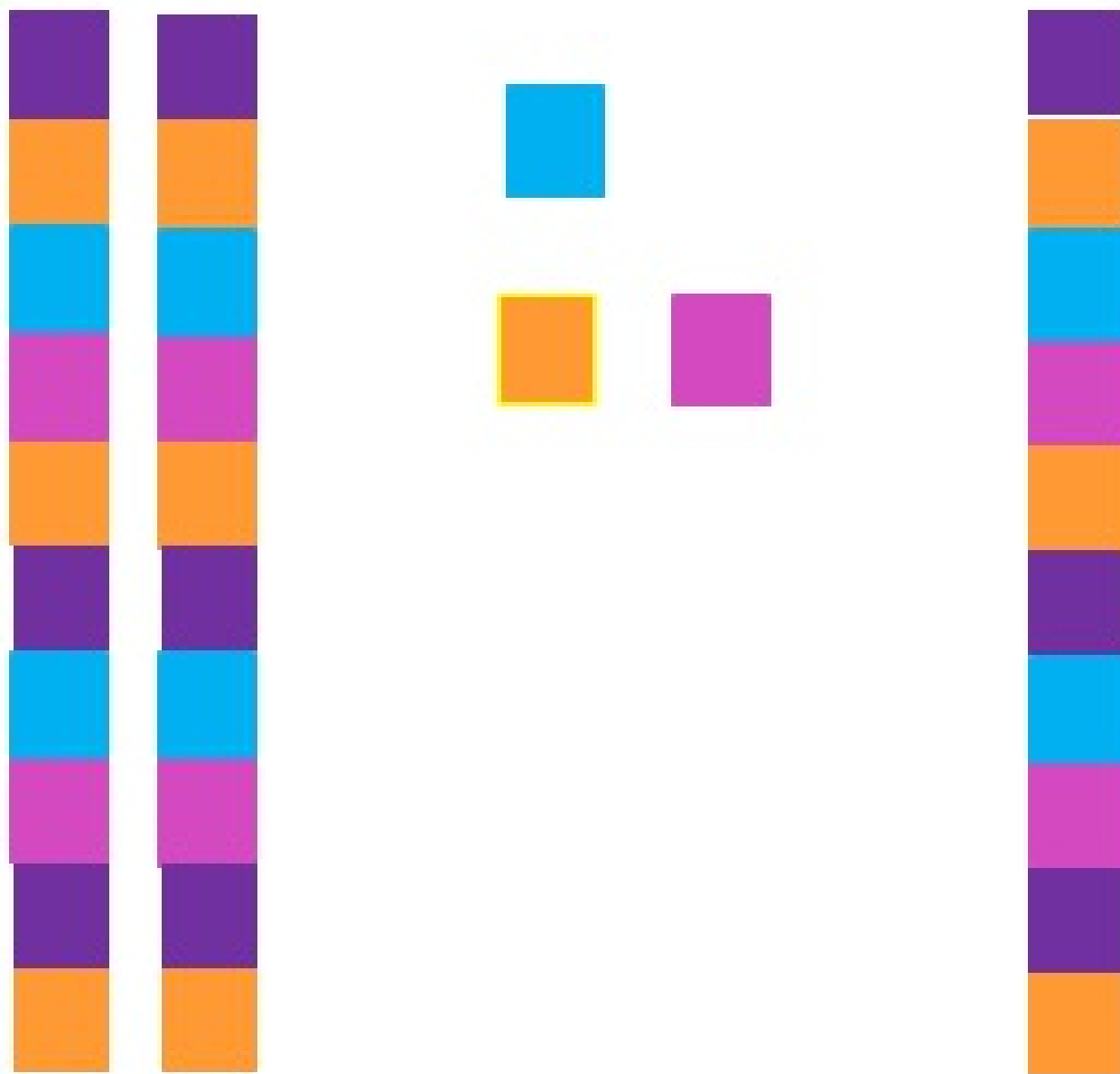
Les tables d'addition

+	1	2	3	4	5	6	7	8	9	10
1	2	3	4	5	6	7	8	9	10	11
2	3	4	5	6	7	8	9	10	11	12
3	4	5	6	7	8	9	10	11	12	13
4	5	6	7	8	9	10	11	12	13	14
5	6	7	8	9	10	11	12	13	14	15
6	7	8	9	10	11	12	13	14	15	16
7	8	9	10	11	12	13	14	15	16	17
8	9	10	11	12	13	14	15	16	17	18
9	10	11	12	13	14	15	16	17	18	19
10	11	12	13	14	15	16	17	18	19	20

$$24 + 9$$



$$24 + 9$$



Calcule :

$$48 + 9$$

$$65 + 9$$

$$36 + 19 \quad ?$$

$$76 + 9$$

$$83 + 9$$

Correction

$$\begin{aligned}48 + 9 \\&= 48 + 10 - 1 \\&= 57\end{aligned}$$

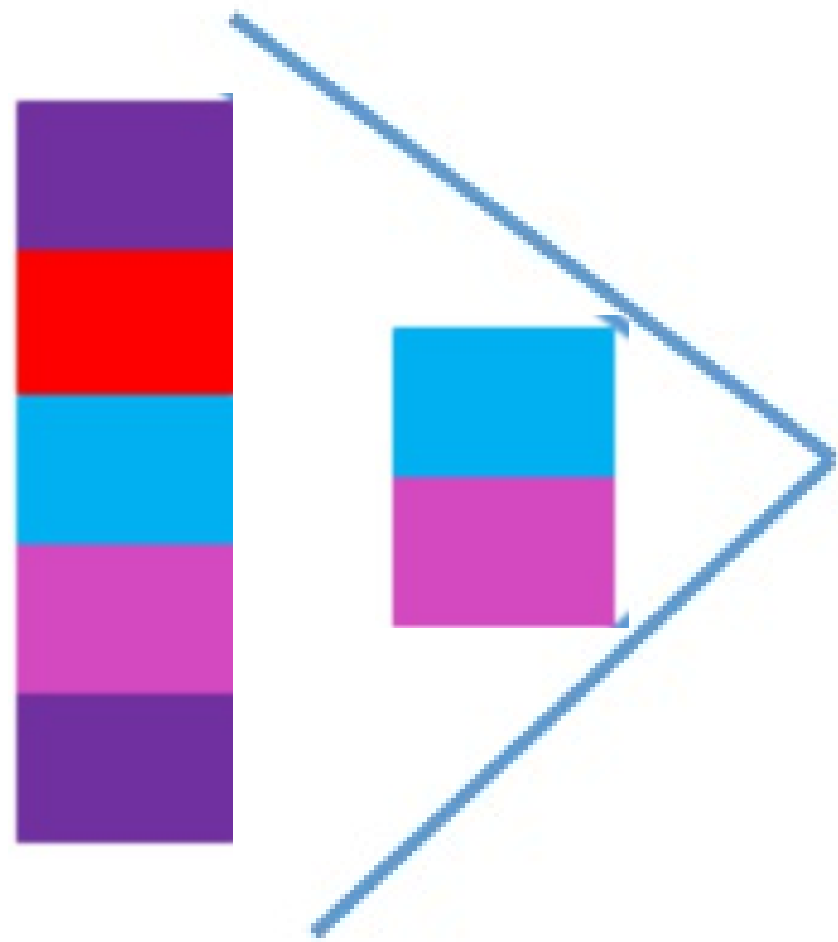
$$65 + 9 = 74$$

$$\begin{aligned}36 + 19 \\&= 36 + 10 + 10 - 1 \\&= 55\end{aligned}$$

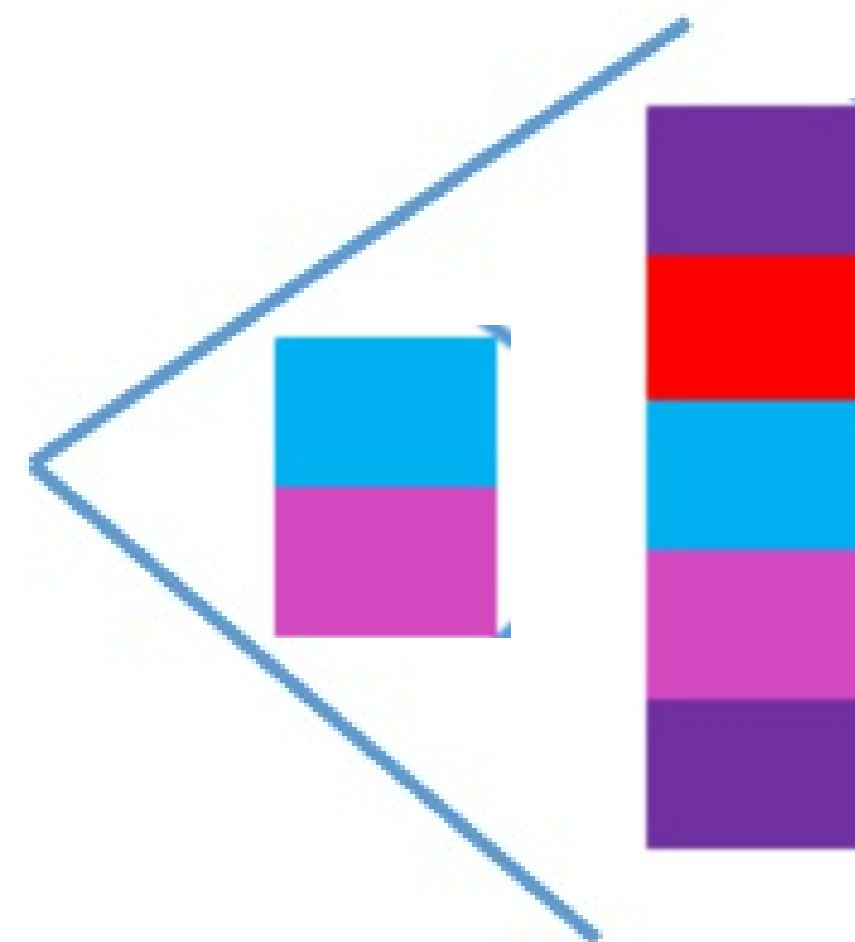
$$\begin{aligned}76 + 9 \\&= 76 + 10 - 1 \\&= 75\end{aligned}$$

$$83 + 9 = 92$$

Comparer des nombres



est plus grand que



est plus petit que

Comparer des nombres

$3d + 4u$



$5d + 3u$

$6d + 4u$



$6u + 4d$

Ordonner des nombres

Range ces nombres dans l'ordre **croissant**
(*du plus petit au plus grand*).

55


$2d + 3u$

$7u + 5d$

38


Correction

$$3d + 4u$$




$$5d + 3u$$

$$6d + 4u$$




$$6u + 4d$$


$$2d + 3u$$




$$38$$




$$55$$



$$7u + 5d$$



Première situation



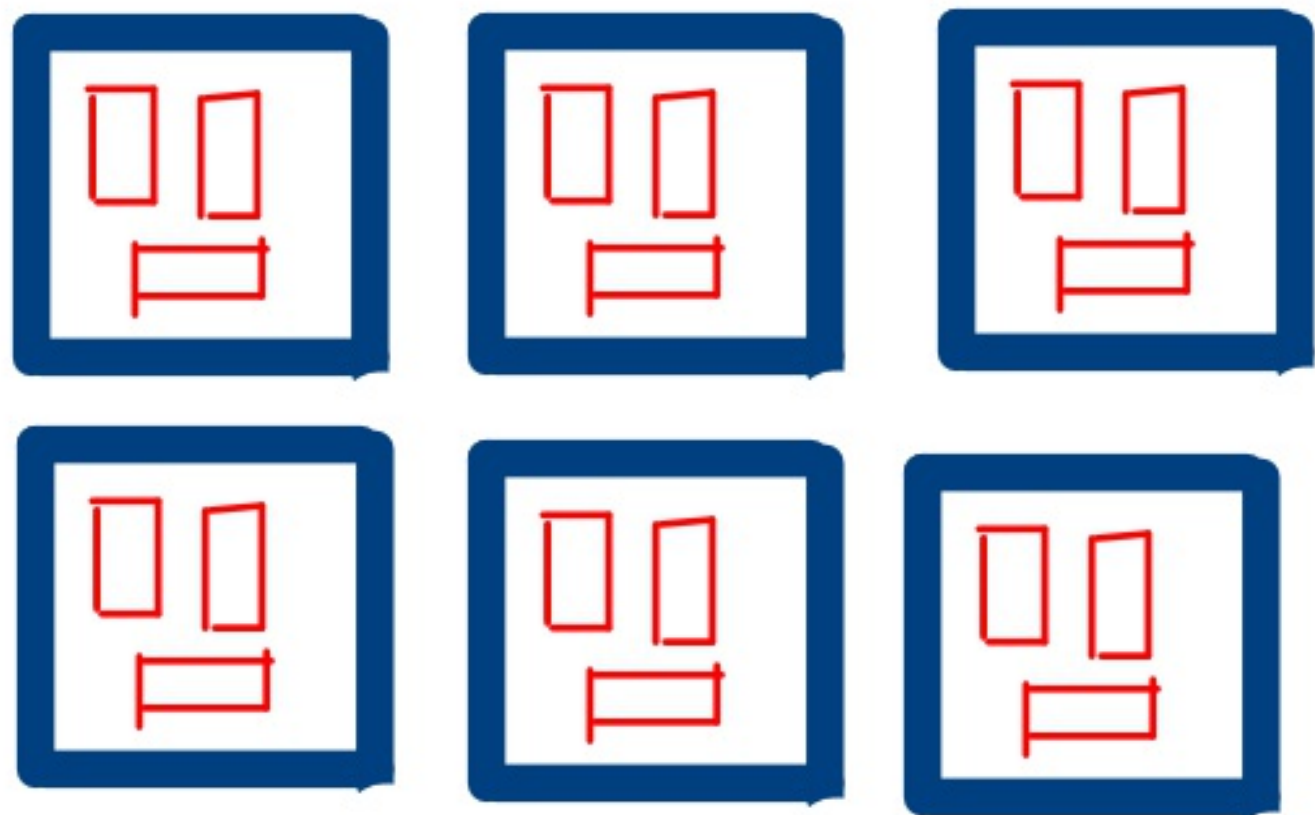
Léa range toutes ses petites voitures. Elle en place toujours trois par boîte.
Elle utilise six boîtes.

Combien Léa a-t-elle rangé de voitures ?



Léa range toutes ses petites voitures. Elle en place toujours trois par boîte.
Elle utilise six boîtes.

Combien Léa a-t-elle rangé de voitures ?

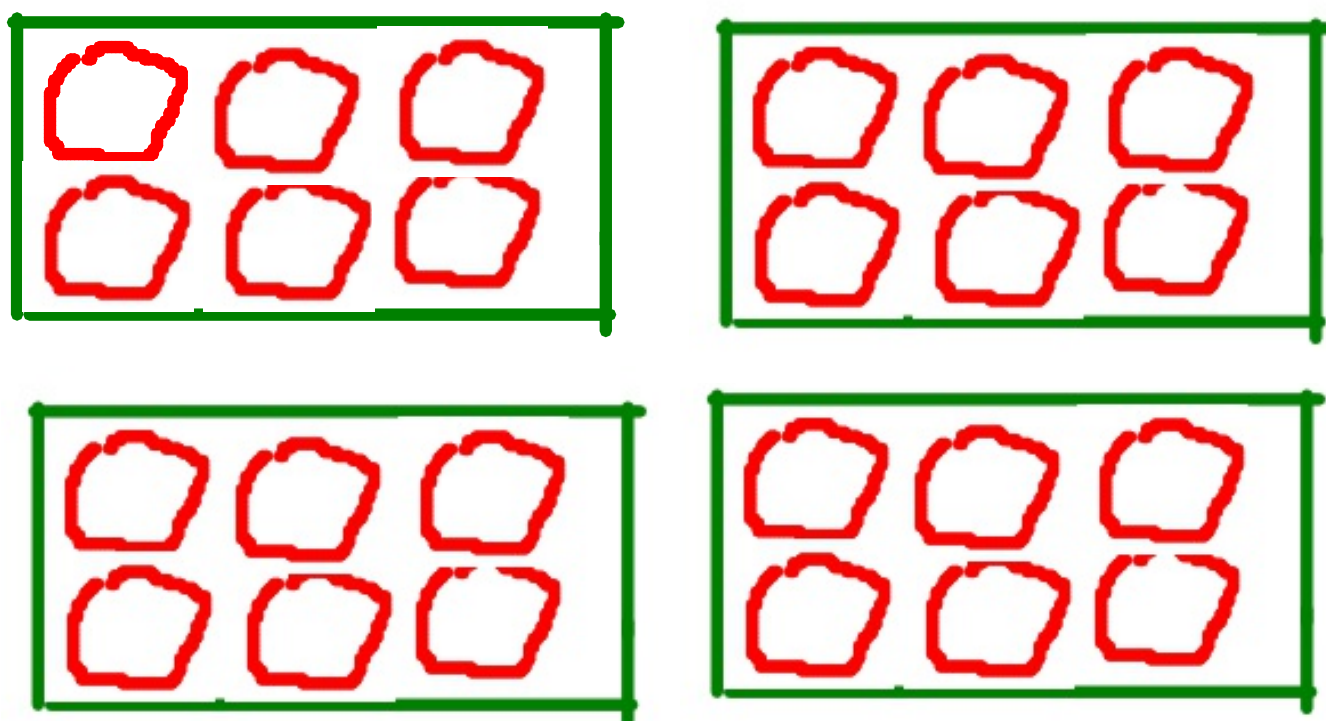


$$3+3+3+3+3+3=6\times 3=18$$

Léa a rangé 18 voitures.


Léo range toutes ses peluches. Il en place toujours six par boîte.
Il utilise quatre boîtes.

Combien Léo a-t-il rangé de peluches ?




$$6+6+6+6=4\times 6=24$$

Léo a rangé 24 peluches.




Troisième situation



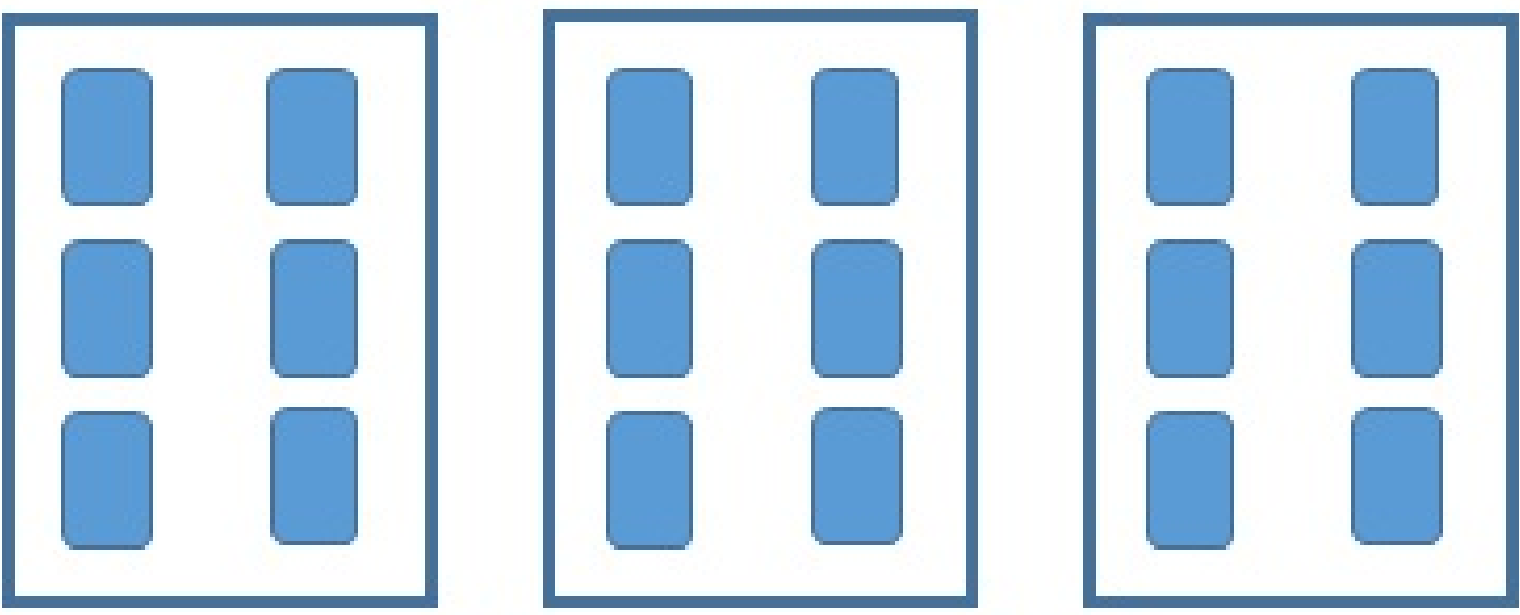
Léo colle toutes ses images dans un cahier. Il en colle toujours six par page.
Il utilise trois pages.

Combien Léo a-t-il collé d'images ?



Léo colle toutes ses images dans un cahier. Il en colle toujours six par page.
Il utilise trois pages.

Combien Léo a-t-il collé d'images ?



$$6+6+6=3\times 6=18$$

Léo a collé dix-huit images dans son cahier.