

Correction

Le petit campagnol s'inquiète . **vrai**


Le papa campagnol rassure son petit . **vrai**

Le cygne veut gigoter sous le châtaignier. **faux**

Le cygne demande à manger . **vrai**

gn

avec mon/ma puis mes



avec il



ma

montagne

mon

champignon

mon

chignon

ma

signature

mon

agneau

mes montagnes - **mes** champignons - **mes** chignons -
mes signatures - **mes** agneaux

gagne

soigne

$$17 + 53 = ?$$

J'utilise les compléments à 10.



6 dizaines et 10 unités

6 dizaines et 1 dizaine

7 dizaines

$$10 + 7 + 50 + 3$$
$$50 + 10 + 10 = 70$$

J'additionne les dizaines ensemble puis les unités ensemble


	60	61	62	63	64	65	66	67	68	69
	70	71	72	73	74	75	76	77	78	79
	80	81	82	83	84	85	86	87	88	89
	90	91	92	93	94	95	96	97	98	99

De 0 à 99



dienda.com

	0	1	2	3	4	5	6	7	8	9
	10	11	12	13	14	15	16	17	18	19
	20	21	22	23	24	25	26	27	28	29
	30	31	32	33	34	35	36	37	38	39
	40	41	42	43	44	45	46	47	48	49
	50	51	52	53	54	55	56	57	58	59
	60	61	62	63	64	65	66	67	68	69
	70	71	72	73	74	75	76	77	78	79
	80	81	82	83	84	85	86	87	88	89
	90	91	92	93	94	95	96	97	98	99



Combien de poissons?



Ecris le nombre de dizaines et d'unités puis le nombre de poissons



8 u


9 d

9 8



Combien de poissons?

Ecris le nombre de dizaines et d'unités puis le nombre de poissons



$$\begin{aligned}
 &1\ d + 3\ u + 8\ d \\
 &= 9\ d + 3\ u \\
 &= 9\ 3
 \end{aligned}$$

« Un enfant a des cubes. Sa sœur lui en donne 14. Il en a maintenant 36. Combien-en avait-il avant que sa sœur lui en donne ? »

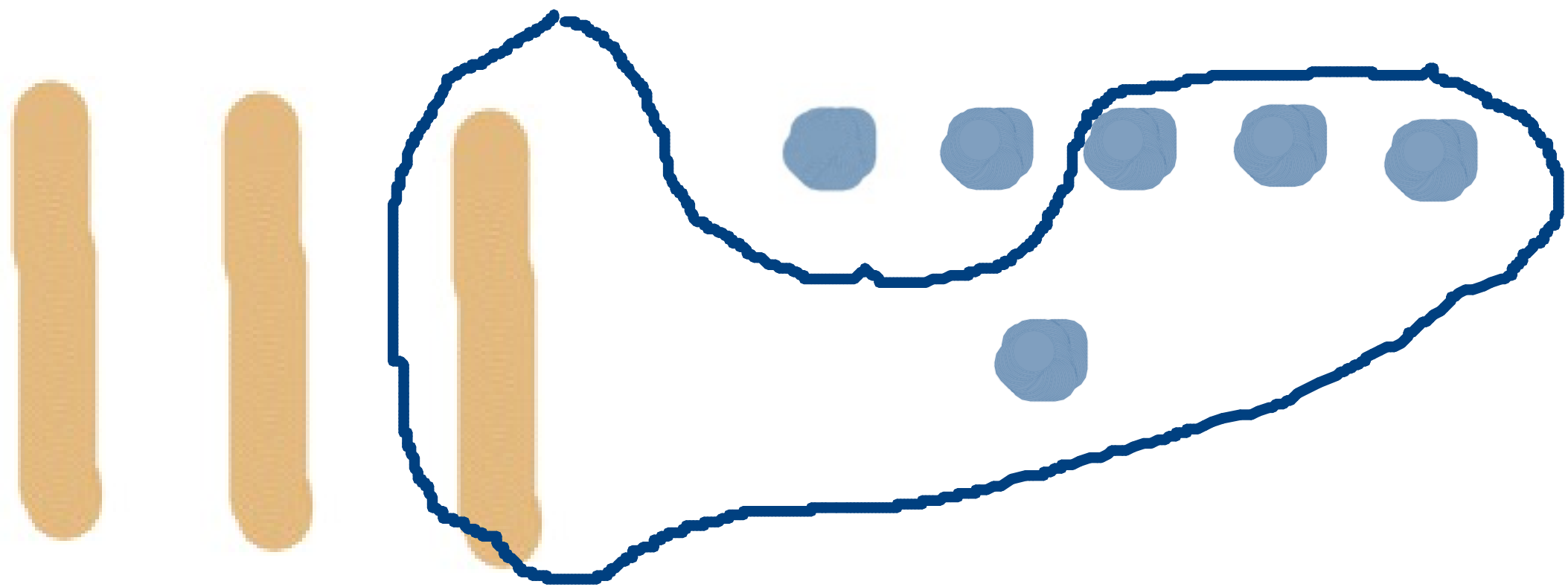


Aide

Dessine le nombre de cubes que l'enfant a, à la fin.
Combien de cubes sa soeur lui a donné ? Entoure-les
Combien de cubes avait-il avant ?

Ecris le calcul

Ecris la phrase : Avant ,il y avait ... cubes.



Nombre de cubes
à la fin

$$36 - 14 = 22$$

Nombre de cubes
avant

Nombre de cubes
donnés

Avant ,il y avait ... cubes.