

# Reconnaitre, nommer et décrire les solides : cube, pavé droit, pyramide

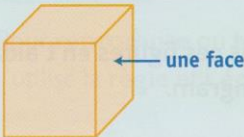

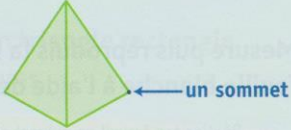
## Cherchons

- Ce solide est-il un cube ?
- Comment peux-tu le vérifier ?



Cube d'acier,  
Philippe Lonzi.

## Je retiens

Le cube	Le pavé droit	La pyramide
 <p>Les faces d'un cube sont des carrés.</p>	 <p>Les faces d'un pavé droit sont des rectangles.</p>	 <p>Elle a 4 faces en forme de triangle et une en forme de carré.</p>

## Je m'entraîne

**1** Observe ces objets et complète avec les lettres correspondantes.

a. Ce sont des cubes : ....    b. Ce sont des pavés : ....    c. Ce sont des pyramides : ....

