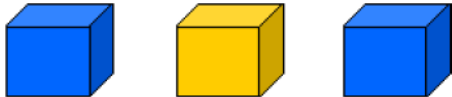
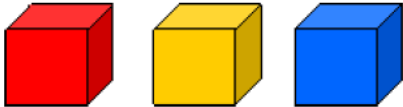
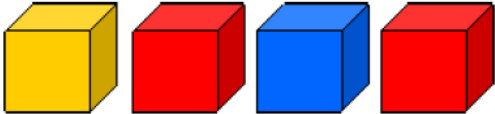


Défi maths maternelle

	ENONCE	
Petite section	A l'aide de ces 3 cubes, combien peux-tu construire de tours différentes ? (2 couleurs)	
Moyenne section	A l'aide de ces 3 cubes, combien peux-tu construire de tours différentes ? (3 couleurs)	
Grande section	A l'aide de ces 4 cubes, combien peux-tu construire de tours différentes ? (3 couleurs)	

Pour chercher la solution à l'énigme, il est possible de s'aider en dessinant des tours à colorier.