

Nina calcule $129 - 46$. Termine son travail et complète l'égalité.

Etape 1

$$129 - 46 = 83$$

Etape 2

je barre les 6
pièces de 1€



-46

9 unités moins 6 unités,
3 unités.
2 dizaines moins 4 dizaines,
il faut faire un échange !



2 dix - 4d c'est impossible !

3

j'échange
1 billet de 100
contre 10 billets
de 10€.



-46

j'ai maintenant 12 dizaines
et j'en barre 4

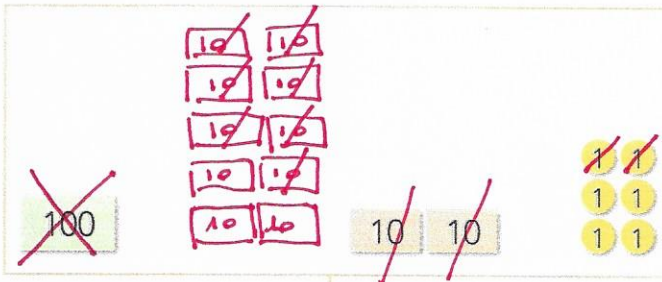
0

8

3

Écris les soustractions, calcule comme Nina (fais les échanges) et écris les résultats.

$$126 - 92 = 34$$




-92

0

3

4

$$163 - 145 = 18$$



-145


0

1

8

Écris les soustractions, calcule comme Nina (fais les échanges) et écris les résultats.

$$157 - 71 = 86$$



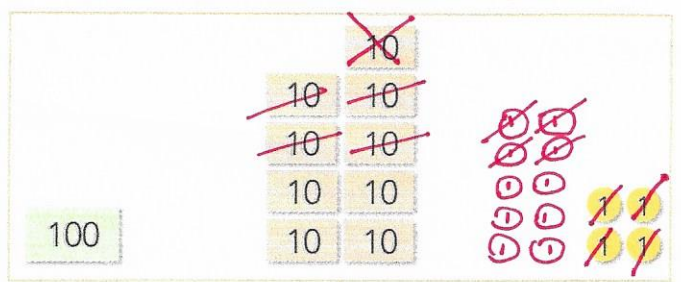
-71

0

8

6

$$194 - 48 = 146$$



-48

1

4

6