
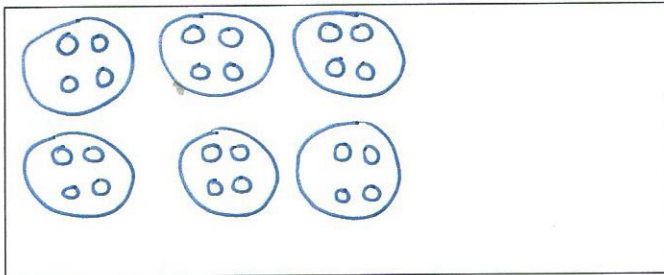


## Calcul mental

- Soustractions  
(Où vais-je barrer ?)




Dessine 6 fois 4 jetons.



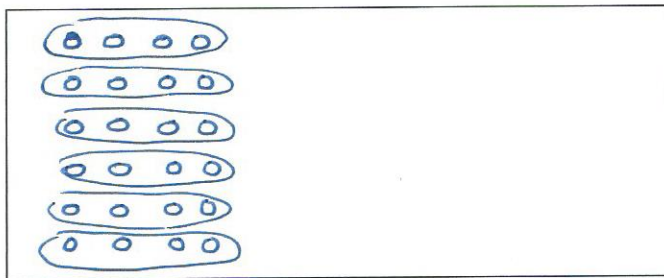
Ici, en tout, j'ai dessiné 24 jetons.

Dessine 4 fois 6 jetons.



Ici, en tout, j'ai dessiné 24 jetons.

Dessine 6 rangées de 4 jetons.



Ici, en tout, j'ai dessiné 24 jetons.

Que remarques-tu ? Saurais-tu l'expliquer en utilisant la boîte ci-dessous ?



Et si tu dessinais 50 fois 3 jetons et 3 fois 50 jetons, qu'observerais-tu ?

J'ai appris

Dans 6 fois 4, il y a le même nombre que dans 4 fois 6.  
On le voit bien quand les groupes qu'on forme sont des rangées.  
Ce nombre s'écrit  $6 \times 4$  (« 6 multiplié par 4 »)  
ou  $4 \times 6$  (« 4 multiplié par 6 »).