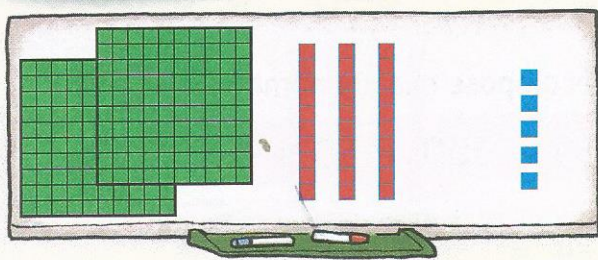


↳ Calcul mental : Effectuer des additions du type $u + u, d + d, c + c$.



Je comprends

↳ Pour bien démarrer : Ce nombre croît en lui-même.



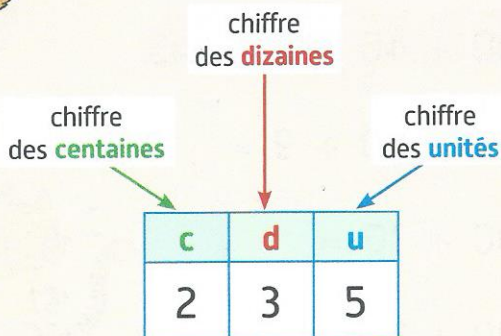
$$2 \text{ centaines} \quad 3 \text{ dizaines} \quad 5 \text{ unités}$$

$$200 + 30 + 5 = 235$$

En tout, il y a **235** carrés.



Et toujours :
le vert pour les centaines,
le rouge pour les dizaines
et le bleu pour les unités.



J'applique

1 Complète.



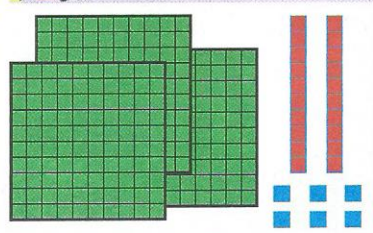
centaines

dizaine

unités

En tout, il y a carrés.

c	d	u
<input type="text"/>	<input type="text"/>	<input type="text"/>



centaines

dizaines

unités

En tout, il y a carrés.

c	d	u
<input type="text"/>	<input type="text"/>	<input type="text"/>

2 Complète.

• 495, c'est centaines, dizaines et unités.

• 307, c'est centaines, dizaine et unités.

• 260, c'est centaines, dizaines et unité.

• , c'est 3 centaines, 6 dizaines et 1 unité.

• , c'est 4 centaines, 0 dizaine et 2 unités.

